

平成30年度  
上宮高等学校  
入学考査問題

社 会

(注意) 解答はすべて解答用紙に記入しなさい。

受 験 番 号	名 前

I 次の文章は、「食料自給率 38% 『地場産』で食卓<sup>まかな</sup>賄おう」と題された新聞記事からの引用です。この文章を読んで、後の問いに答えなさい。

あらためて深刻に受け止めねばならない数字だ。2016年度の①食料自給率（カロリーベース）は、前年度より1ポイント減の38%となった。②世界規模の紛争や農産物の凶作で輸入が止まれば、われわれの「食卓」が立ちゆかなくなる現実を意味する。

「食料安全保障」という言葉がある。必要な食料を自国内で安全に賄う考えで、各国とも自給率向上に重きを置く。③カナダは200%以上で、④アメリカ合衆国やフランスも100%を堅持している。

それとは正反対なのが日本である。ことしの⑤経済財政運営の柱となる「骨太の方針」から、前年にはあった「食料安全保障の確立」という文言が消えた。安全保障とは決して防衛力の強化だけを意味するものではなからう。命の源である食料を確保することは政府の使命だ。

6年ぶりの自給率低下は昨年夏、⑥北海道を襲った台風で、小麦や砂糖原料のテンサイが甚大な被害を受けたのが大きい。記録的な⑦冷夏で「平成の⑧米騒動」が起きた1993年度の37%に次ぐ低水準である。

その年の豊凶で数字は上下する。ただ半世紀前は70%を超えていた自給率が右肩下がりで、ここ7年は40%割れが続いているのは危機的状況だろう。

今後も「飽食ニッポン」が続く保証はない。海外に目を転じると⑨人口爆発や異常気象で食料事情は切迫している。⑩中国など新興国で穀物や肉の消費が増え、日本の企業が買い付けで敗れるケースもあるという。

食料争奪戦の激化はもはや避けられない。その危機感や覚悟が日本政府にないばかりか、逆に農業切り捨てとも映る自由貿易協定の締結に前のめりなのは首をかしげざるを得ない。

先月、⑪欧州連合（EU）との経済連携協定（EPA）に大枠合意し、米国が離脱した環太平洋連携協定（TPP）にもなお野心を燃やす。自動車などの工業製品の輸出を増やすのが狙いで、わが国の自給率低下に拍車が掛かる恐れがある。政府は、2年前に掲げた45%という目標をほごにする気だろうか。

政府は成長戦略で果樹などの生産振興を訴えるが、高付加価値とは別に、穀物など基礎的な食料はしっかり保護する義務がある。⑫経済のグローバル化は社会にひずみを生む。国内農家だけを犠牲にし、食料安保の視点を欠く政策は許されない。

ただ自給率アップは一朝一夕にはいかない。担い手不足や耕作放棄地の拡大など、足腰の弱った国内農業を立て直すには抜本的な政策転換が要る。それは国任せで済む話ではなく、現場からうねりを起こすべきだ。

自給率には国内格差がある。農林水産省が発表した15年度の都道府県別統計によると北海道や東北の多くの県が200~100%台なのに対し、大都市圏は1桁台。⑬中国地方は鳥取、島根の60%台に比べ広島23%、山口32%、岡山36%にとどまる。山陽3県にはもっと自給率を引き上げる余力はあろう。

地産地消の旗を高く上げたい。多品目の農産品栽培を行政が奨励し、われわれ消費者も農家を「買い支える」という気概を持とう。学校給食や企業の食堂が地元産品を積極的に用いることも有効ではないか。「地場産自給率」の引き上げは経済の好循環をもたらし、地方全体の活性化にもつながるはずだ。

問1 下線部①について、次の表は日本を含むアメリカ合衆国・イギリス・フランス・オーストラリアの食料自給率(%)をまとめたものです。下の(1)・(2)の各問いに答えなさい。

	穀物	いも類	豆類	野菜類	果実類	肉類	牛乳・乳製品
日本	29	78	10	80	43	55	63
A	118	93	165	91	77	114	104
B	101	87	47	40	5	69	81
C	291	81	229	81	82	147	142
D	176	127	86	78	62	102	128

(「2017 データブック オブ・ザ・ワールド」より)

(1) 表のA～Dの国の組み合わせとして正しいものを、次のア～エの中から1つ選んで、記号で答えなさい。

- ア A－イギリス      B－オーストラリア      C－フランス      D－アメリカ合衆国  
 イ A－オーストラリア      B－フランス      C－アメリカ合衆国      D－イギリス  
 ウ A－フランス      B－アメリカ合衆国      C－イギリス      D－オーストラリア  
 エ A－アメリカ合衆国      B－イギリス      C－オーストラリア      D－フランス

(2) 次の表は、日本で比較的自給率の高い野菜である、キャベツとトマトの収穫量が多い都道府県の順位です。それぞれの収穫量第1位であるa・bにあてはまる都道府県名の組み合わせとして正しいものを、下のア～エの中から1つ選んで、記号で答えなさい。

キャベツの収穫量 (2014年)			トマトの収穫量 (2014年)		
順位	都道府県名	万t	順位	都道府県名	万t
1	a	26.7	1	b	12.6
2	群馬県	24.9	2	北海道	6.3
3	千葉県	12.9	3	茨城県	4.9
4	茨城県	10.4	4	千葉県	4.6
5	神奈川県	7.5	5	愛知県	4.5
合計	148万t		合計	74万t	

(「2017 データブック オブ・ザ・ワールド」より)

- ア a－北海道      b－長野県      イ a－愛知県      b－熊本県  
 ウ a－北海道      b－熊本県      エ a－愛知県      b－長野県

問2 下線部②について述べた文として誤っているものを、次のア～エの中から1つ選んで、記号で答えなさい。

- ア 米ソの冷戦が終結してからも、民族間や宗教上の対立から、深刻な地域紛争が世界各地で多発している。
- イ ユダヤ教徒が中心のイスラエルと、イスラム教を信仰する周辺のアラブ諸国との長年にわたる紛争を、パレスチナ問題という。
- ウ 国際的な紛争に対処するために、国連に安全保障理事会が設置されていて、日本はその中の常任理事国の1つに任命されている。
- エ 国連は国際的な紛争に対処するために、紛争が起きている国の同意に基づいて国連平和維持活動を展開し、停戦や選挙の監視などを行っている。

問3 下線部③について、次の(1)・(2)の各問いに答えなさい。

- (1) カナダの公用語は英語を含めて2つあります。ケベック州で特に多いとされるもう1つの公用語は何ですか。
- (2) カナダの首都オタワ(西経75度)が2月10日午前9時の時、大阪市は何月何日の何時になりますか。次のア～エの中から1つ選んで、記号で答えなさい。
  - ア 2月9日午前7時                      イ 2月9日午後11時
  - ウ 2月10日午前7時                    エ 2月10日午後11時

問4 下線部④について、次の(1)・(2)の各問いに答えなさい。

- (1) アメリカ合衆国では、その土地の自然条件(気温・降水量など)や社会条件(市場など)に最も適した作物を選んで栽培する生産方式を行っています。このような生産方式を何といいますか。漢字4字で答えなさい。
- (2) 次の写真は、アメリカ合衆国の乾燥地帯の農場でみられる<sup>かんがい</sup>灌漑農法の様子です。自走するスプリンクラーを利用するこのような農法として正しいものを、下のア～エの中から1つ選んで、記号で答えなさい。



- ア センターピボット      イ モノカルチャー      ウ フィードロット      エ プランテーション

問5 下線部⑤について、現在の日本が行っている経済財政運営として誤っているものを、次のア～エの中から1つ選んで、記号で答えなさい。

- ア 自国の通貨と外国の通貨の流通量を管理したり調整したりして、外国と安定した貿易を行う。
- イ 国民生活が安定するように、主な生活必需品に国が補助金を出して価格を安く設定する。
- ウ 所得に応じて税金を徴収することにより、人々の間に経済的格差が大きくなりすぎないようにする。
- エ 景気が安定するように、中央銀行と協力して国債の売買などを行い、市場に出回るお金を調整する。

問6 下線部⑥について、明治政府は北海道にアメリカ人のクラークを教頭として招き、学校を設立しました。この学校名を答えなさい。

問7 下線部⑦について、日本の東北地方の太平洋側では、時として冷夏となり、冷害が起きることもあります。この原因となる、夏に吹く冷たい北東風を何といいますか。

問8 下線部⑧について、大正時代にも米騒動が起きました。この時代の前後の民衆の動きに関する次のⅠ～Ⅲの文を、年代の古い順に並びかえたものとして正しいものを、下のア～エの中から1つ選んで、記号で答えなさい。

Ⅰ 富山県の漁村の女性たちが、米の県外への積み出しに反対し、米の安売りなどを要求した。

Ⅱ 藩閥政治に反対する民衆が国会議事堂に押し寄せた結果、桂内閣は退陣に追い込まれた。

Ⅲ ポーツマス条約の内容に不満を抱いた民衆が、日比谷で騒動をおこした。

ア Ⅲ → Ⅱ → Ⅰ      イ Ⅱ → Ⅰ → Ⅲ      ウ Ⅲ → Ⅰ → Ⅱ      エ Ⅱ → Ⅲ → Ⅰ

問9 下線部⑨について、人口爆発をおこしている地域として、アフリカの国々があります。アフリカの歴史について述べた文として誤っているものを、次のア～エの中から1つ選んで、記号で答えなさい。

ア アフリカは、かつてヨーロッパ諸国により植民地として分割支配された。

イ 「アラブの春」とよばれた1960年には、多くのアフリカの国々が独立した。

ウ 19世紀の半ばごろまで、多くのアフリカの人々が奴隷としてアメリカ大陸へ連れて行かれた。

エ 2002年にアフリカの平和と地位向上のために、アフリカ連合が発足した。

問10 下線部⑩について、次の(1)・(2)の各問いに答えなさい。

(1) 中国の人口の約9割は一つの民族で、残りの約1割は数多くの少数民族で構成されています。約9割を占める民族名を答えなさい。

(2) 中国はかつて外国の資本や技術を導入するために、税金を優遇するなど大胆な経済改革を取り入れた地域を指定し、急速に経済を発展させてきました。現在、このような地域は深圳(シェンチェン)など南部の沿岸部に5か所指定されています。このような地域を何といいますか。

問11 下線部⑪について、次の(1)～(4)の各問いに答えなさい。

(1) 現在、EUに加盟している国として誤っているものを、次のア～エの中から1つ選んで、記号で答えなさい。

ア ポーランド      イ スイス      ウ ドイツ      エ スペイン

(2) EU加盟国の総人口と、アメリカ合衆国・中国・日本の人口を比べた場合、人口の多い順に並べたものとして正しいものを、次のア～エの中から1つ選んで、記号で答えなさい。

ア アメリカ合衆国 - 中国 - 日本 - EU      イ 中国 - アメリカ合衆国 - EU - 日本

ウ EU - 中国 - 日本 - アメリカ合衆国      エ 中国 - EU - アメリカ合衆国 - 日本

(3) 次のア～エの文は、下の〔図1〕中のa～dの国について述べたものです。c国について述べた文として正しいものを、次のア～エの中から1つ選んで、記号で答えなさい。

ア EU最大の工業国であるこの国は、第2次世界大戦後、東西に分裂していた国家を1990年に統一した国である。

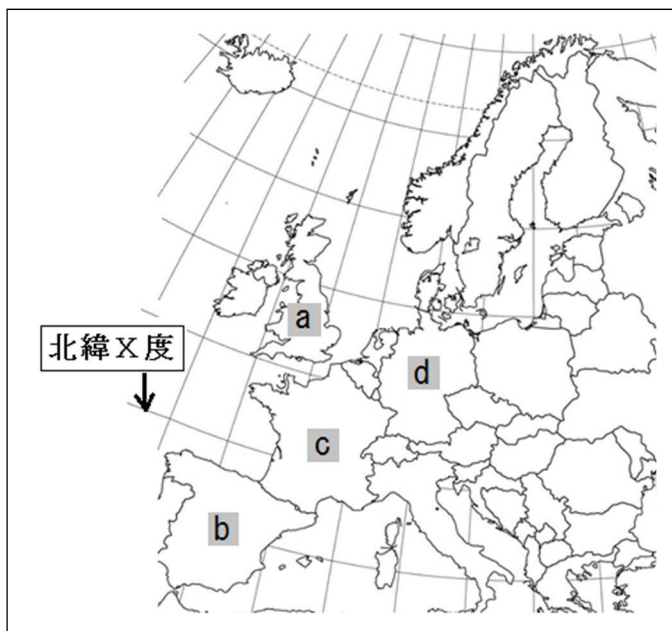
イ カタルーニャ地方など民族問題を抱えるこの国は、国土の中央部に乾燥した高原が広がり、北東部にそびえる山脈は、隣の国との国境となっている。

ウ EU最大の農業国として小麦など多くの農産物を生産・輸出しているこの国は、原子力発電の比重が高い国としても有名である。

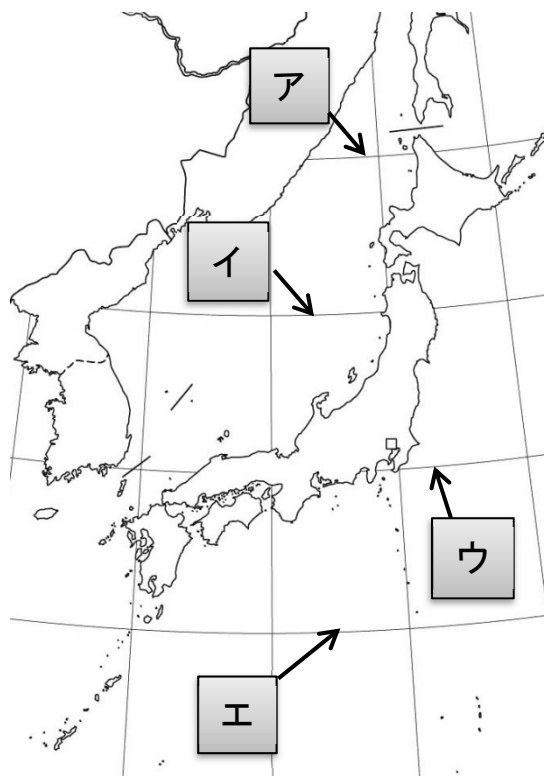
エ 20世紀の初めまでは「世界の工場」と言われたこの国は、2016年の国民投票によりEU離脱を選んだ国である。

(4) 〔図1〕の北緯X度は、〔図2〕の緯線ア～エのどれにあてはまりますか。正しいものを1つ選んで、記号で答えなさい。

〔図1〕



〔図2〕



問12 下線部⑫について、複数の国に工場や販売拠点をもち、世界的規模で活動している企業を何といいますか。漢字5字で答えなさい。

問13 下線部⑬について、次の(1)・(2)の各問いに答えなさい。

(1) 中国地方には政令指定都市として広島市と岡山市があります。では全国にある政令指定都市として誤っているものを、次のア～エの中から1つ選んで、記号で答えなさい。

ア 堺市      イ 仙台市      ウ 宮崎市      エ さいたま市

(2) 下の地図を参考に、中国地方5県とその特色を述べた文として誤っているものを、次のア～オの中から1つ選んで、記号で答えなさい。

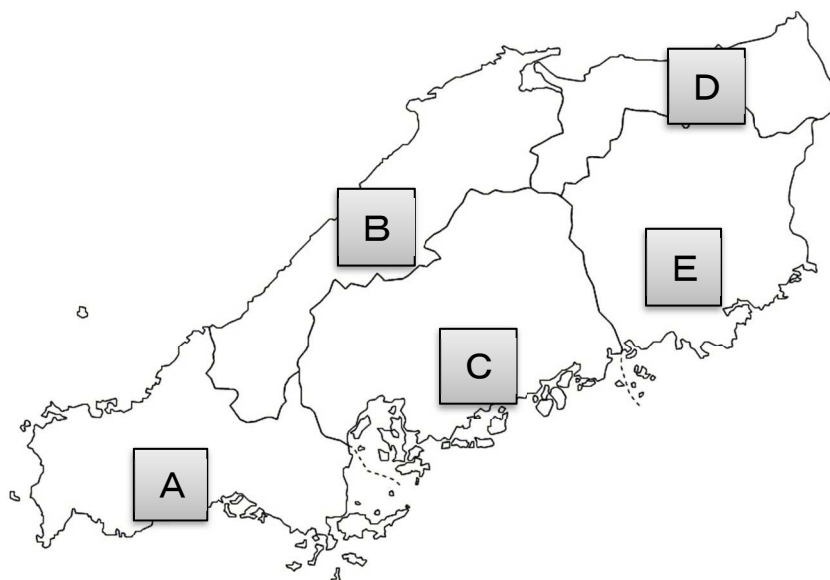
ア Aの県には、日本最大のカルスト地形が見られ、その地下には日本最大の空間を持つ鍾乳洞しょうにゅうどうがある。

イ Bの県には、江戸時代に最盛期を迎えた日本最大の銀山跡があり、2007年には世界文化遺産に登録された。

ウ Cの県には、瀬戸大橋がかかっており、対岸の香川県と結ばれることで、本州と四国の間を往来する人が増えた。

エ Dの県には、日本有数の砂丘があり、観光地としてだけでなく砂漠の緑地化研究の場としても利用されている。

オ Eの県には、金沢の兼六園、水戸の偕楽園かいらくとならび日本三名園と呼ばれる後楽園があり、また日本有数のブドウの生産地として有名である。



## II

次の[A]～[G]の文章は、日本の各時代における外交について述べたものです。それぞれの文章を読んで、後の問いに答えなさい。

- [A] 中国の制度や文化を取り入れようとした朝廷は、①遣唐使を派遣した。②奈良時代の③聖武天皇の治世には、唐の影響を強く受けた文化が栄え、天平文化とよばれた。
- [B] ④平清盛は、宋との貿易をさかんにして利益を得ることにより、権力の基盤にしようとした。貿易では、砂金・刀剣が輸出され、宋銭が輸入された。
- [C] 1549年、イエズス会の⑤宣教師フランシスコ＝ザビエルが（ i ）に来て、日本にキリスト教を伝え、さらに布教活動を始めようとしたが、すぐには布教の許可が得られなかった。しかし、小京都と呼ばれた（ ii ）を拠点とする大名大内氏は布教活動を認めた。
- [D] 17世紀の中ごろ、幕府と朝鮮との国交回復の仲立ちをつとめた宗氏が⑥朝鮮との貿易を担当し、朝鮮の釜山（プサン）には貿易などを行う倭館がおかれた。朝鮮はおもに江戸幕府の⑦将軍がかわるごとに朝鮮通信使を日本に派遣した。
- [E] アメリカ合衆国のペリーは4隻の軍艦を率いて浦賀に来航した。当時、幕府の⑧老中首座は鎖国を守りたいと考えていたが、交渉の末、幕府はペリーの要求に応じ⑨日米和親条約を結んだ。
- [F] 19世紀末、日本は⑩清との戦争に勝利した。その後、日本はロシアとの戦争にも勝利して⑪列強の仲間入りをはたし、⑫条約改正を達成した。また様々な分野で西洋の科学や技術が取り入れられ、急速な勢いで⑬経済が発展した。
- [G] 太平洋戦争後、日本はアメリカ軍を主力とする連合軍に占領され、⑭GHQによって改革を指示された。1951年の⑮講和会議の結果、日本は独立を回復すると、その後1956年にソ連、1965年に韓国、⑯1972年に中国など様々な国と国交を回復、正常化した。

問1 下線部①について述べた次のa・bの文について、その正誤の組み合わせとして正しいものを、下のア～エの中から1つ選んで、記号で答えなさい。

- a 阿倍仲麻呂は留学生として唐に渡り、玄宗皇帝に重用された。  
b 最澄は遣唐使に従って唐に渡り、朱子学の教えを学んで帰国した。

- ア a－正    b－正            イ a－正    b－誤  
ウ a－誤    b－正            エ a－誤    b－誤

問2 下線部②について、奈良時代の政策や制度について述べた文として正しいものを、次のア～エの中から1つ選んで、記号で答えなさい。

- ア 墾田永年私財法が出され、新たに開墾した土地であれば永久に所有することを認めた。  
イ 班田収授法により、6歳以上の男子のみに口分田が与えられた。  
ウ 成年男子を中心に租・調・庸という税を負担し、租は都に運ばなければならなかった。  
エ 地方では有力な豪族が朝廷によって国司に任命された。

問3 下線部③について、聖武天皇の遺品である宝物などが納められている東大寺の倉庫を何といいますか。



問4 下線部④について、次の文章はこの人物が関わった戦いについて述べたものです。( a )～( c )  
 にあてはまる語句の組み合わせとして正しいものを、下のア～エの中から1つ選んで、記号で答えなさい。

平清盛は、( a ) の乱において、崇徳上皇と対立する ( b ) 天皇を助け、戦いに勝利をおさめた。その後、( c ) の乱においては対立していた源義朝を倒し、政治の実権をにぎり、武士として初めて太政大臣に就任した。

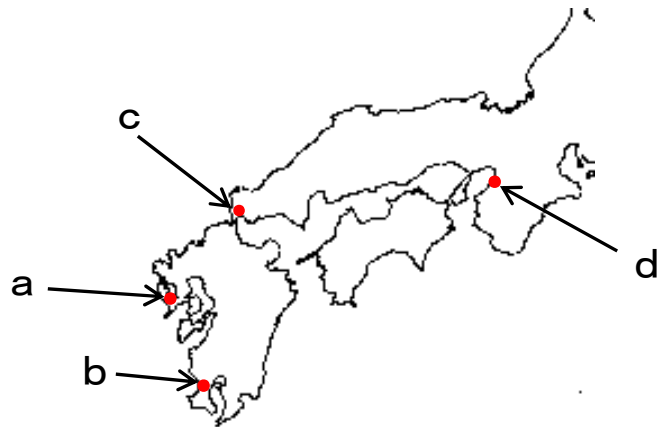
- ア a－保元 b－白河 c－平治      イ a－平治 b－白河 c－保元  
 ウ a－保元 b－後白河 c－平治      エ a－平治 b－後白河 c－保元

問5 下線部⑤について、次の**びょうぶ**にはスペインやポルトガルの商人とともに来日した宣教師が描かれています。この商人との間で行われた貿易として正しいものを、下のア～エの中から1つ選んで、記号で答えなさい。



- ア 朱印船貿易      イ 勘合貿易      ウ 南蛮貿易      エ 東方貿易

問6 次の地図を見て、[C]の文章中の ( i )・( ii ) にあてはまる都市の組み合わせとして正しいものを、次のア～エの中から1つ選んで、記号で答えなさい。



- ア ( i )－a      ( ii )－c      イ ( i )－b      ( ii )－c  
 ウ ( i )－a      ( ii )－d      エ ( i )－b      ( ii )－d

問7 下線部⑥について、この貿易で輸入されたものの1つで、日本では戦国時代から庶民の衣類や鉄砲の火縄などにも使用されるようになり、のち三河地方の特産品となったものを何といいますか。

問8 下線部⑦について、次の江戸時代の政策について述べた a・b の文と、その政策を行った将軍の組み合わせとして正しいものを、下のア～エの中から1つ選んで、記号で答えなさい。

a 新田の開発を奨励したり、年貢の取り方を改めるなど収入の増加をはかった。

b 忠義や孝行、礼儀や秩序を重んじ、湯島聖堂を建てて孔子をまつた。

ア a - 徳川吉宗      b - 徳川綱吉      イ a - 徳川家光      b - 徳川慶喜

ウ a - 徳川綱吉      b - 徳川吉宗      エ a - 徳川慶喜      b - 徳川家光

問9 下線部⑧について、この人物名を答えなさい。

問10 下線部⑨について、この条約によって開港した場所の組み合わせとして正しいものを、次のア～エの中から1つ選んで、記号で答えなさい。

ア 新潟・兵庫      イ 長崎・横浜      ウ 下田・箱館（函館）      エ 酒田・下関

問11 下線部⑩について、この戦争後、清との間で講和条約が結ばれました。このとき日本に譲渡された地域として誤っているものを、次のア～エの中から1つ選んで、記号で答えなさい。

ア 樺太      イ 台湾      ウ 遼東半島      エ 澎湖諸島

問12 下線部⑪について、19世紀の列強の動きとして誤っているものを、次のア～エの中から1つ選んで、記号で答えなさい。

ア イギリスはロシアの南下政策を警戒し、日本との関係を強めた。

イ アメリカは清との間でアヘン戦争をおこし、中国に進出していった。

ウ ドイツはビスマルクによって統一され、重工業を中心に国力を高めた。

エ ロシアは東アジアへ進出し、ウラジオストクまで鉄道を敷設した。

問13 下線部⑫について、次のⅠ～Ⅲの文の条約改正に関する出来事を、年代の古い順に並べかえたものとして正しいものを、下のア～エの中から1つ選んで、記号で答えなさい。

Ⅰ 井上馨は鹿鳴館での舞踏会に象徴される欧化政策をとり、改正交渉をすすめた。

Ⅱ 陸奥宗光はイギリスとの間で領事裁判権の撤廃に成功した。

Ⅲ 岩倉具視は使節団の大使として条約改正の予備交渉のため、欧米に派遣された。

ア Ⅲ → Ⅱ → Ⅰ      イ Ⅱ → Ⅰ → Ⅲ      ウ Ⅲ → Ⅰ → Ⅱ      エ Ⅱ → Ⅲ → Ⅰ

問14 下線部⑬について、大阪紡績会社などの設立にかかわり、明治時代の経済発展に貢献した人物として正しいものを、次のア～エの中から1つ選んで、記号で答えなさい。

ア 渋沢栄一      イ 豊田佐吉      ウ 岩崎弥太郎      エ 五代友厚

問15 下線部⑭について、GHQが発した五大改革指令として誤っているものを、次のア～エの中から1つ選んで、記号で答えなさい。

ア 経済の民主化      イ 貿易の自由化      ウ 労働組合の結成      エ 婦人参政権の付与

問16 下線部⑮について、この講和会議が行われた都市として正しいものを、次のア～エの中から1つ選んで、記号で答えなさい。

ア パリ      イ ジュネーブ      ウ ロンドン      エ サンフランシスコ

問 17 下線部⑬について、この年に日本と中国との間で調印されたものと、この時の日本の首相の組み合わせとして正しいものを、次のア～エの中から1つ選んで、記号で答えなさい。

- ア 日中平和友好条約 — 福田赳夫                      イ 日中共同声明 — 福田赳夫  
ウ 日中平和友好条約 — 田中角栄                      エ 日中共同声明 — 田中角栄

次ページに続きます。

### Ⅲ 次の文章を読んで、後の問いに答えなさい。

人間は「社会的動物」と言われるように、互いに協力して社会を営み、高度な文明を発達させてきました。

私たちの周囲を見渡しても、一人では作ることの出来ない文明の利器があふれています。橋や空港、高速道路網などの①大きな建造物だけではなく、②自動車や家電製品、さらに③スマートフォンなどの小さな電子機器なども、すべて数えきれない多くの人々の知恵や労力が積み重ねられて作られたものです。

また、こうした形のあるものだけではなく、④家族や学校や⑤職場において、人びとは常に強い協力関係を築いて活動をしています。そして、こうした活動は、過去から先人たちが築きあげてきた社会制度や政治の仕組みの上に営まれているので、私たちは時代を超えて先人たちともつながっているとと言えます。

たとえば、現在の⑥憲法に基づいて政治を行うといった仕組み、また⑦立法権、行政権、司法権などの権力を分立する仕組み、さらに⑧国民の代表者が政党を作って政治をする仕組みなどは多くの試行錯誤によって見出されたものです。

そしてこうした仕組みの下で、人びとは多くの⑨財やサービスを生産し、これらを販売したり消費したりしてきました。そして⑩貨幣を仲立ちとして、これら多くの⑪財やサービスを循環させ、豊かな経済社会を営んできました。さらにこうした活動の下で、人びとは⑫科学や芸術や宗教といった精神的な文化をも花咲かせてきました。

問1 下線部①について、誰もが利用するこのような設備を表す言葉として誤っているものを、次のア～エの中から1つ選んで、記号で答えなさい。

ア 社会資本      イ 公共財      ウ インフラストラクチャー      エ セーフティネット

問2 下線部②について述べた文として正しいものを、次のア～エの中から1つ選んで、記号で答えなさい。

ア 1955年から1960年にかけて電気洗濯機、白黒テレビ、扇風機が「三種の神器」として各家庭に急速に広まった。

イ 1970年代には、高度経済成長を背景にカラーテレビ、自動車、コンピューターが「3C」として人々のあこがれの的となった。

ウ 1980年代には、日本製の自動車が大量にアメリカに輸出されるようになり、これによってアメリカの自動車産業が大きな打撃を受けた。

エ 1990年代には、アフリカやラテンアメリカの新興国が急速に工業化をすすめて、日本に安価な家電製品を輸出したために、国内の家電産業が大きな打撃を受けた。

問3 下線部③について、これらの普及によってもたらされたものとして誤っているものを、次のア～エの中から1つ選んで、記号で答えなさい。

ア 情報が国境を越えて短時間に伝わることによって、西アジアや北アフリカで民主化運動が起こった。

イ 情報技術を使いこなせる人と使いこなせない人との、メディアリテラシーといわれる情報量の格差が拡大した。

ウ 行政機関や企業などから大量の個人情報流出し、プライバシーの権利が侵害される危険性が増えた。

エ 音楽や映像、コンピューターソフトなどが不正にコピーされることが多くなり、知的財産権の保護が課題となっている。

問4 下線部④について、家族のあり方を掲げた次の日本国憲法の条文中の[ a ]・[ b ]にあてはまる語句の組み合わせとして正しいものを、下のア～エの中から1つ選んで、記号で答えなさい。

第24条「配偶者の選択、財産権、相続、住居の選定、離婚並びに婚姻及び家族に関するその他の事項に関しては、法律は、個人の[ a ]と両性の本質的[ b ]に立脚して、制定されなければならない。」

- ア a－良心 b－相違 イ a－尊厳 b－相違  
ウ a－良心 b－平等 エ a－尊厳 b－平等

問5 下線部⑤について述べた文として正しいものを、次のア～エの中から1つ選んで、記号で答えなさい。

- ア 日本の職場では、アルバイトや派遣労働者などの非正規雇用者が増えているが、これは本人の希望によるだけではなく、正社員として働ける会社が少ないことも大きな原因となっている。  
イ 日本の職場では、少子高齢化により働く人の数が減少しているので、東南アジアや西アジアから多くの移民を受け入れて正規労働者として雇用している。  
ウ 日本の職場では、賃金や労働時間について、経営者と対等の立場で交渉することができるように労働組合をつくることが認められていて、ほとんどの労働者がこれに加入している。  
エ 日本の職場では、女性も働きやすくなるように育児・介護休業法が制定され、男女間の格差も少なくなり、男女とも育児休暇をとる比率がほぼ同じになった。

問6 下線部⑥について述べた文として誤っているものを、次のア～エの中から1つ選んで、記号で答えなさい。

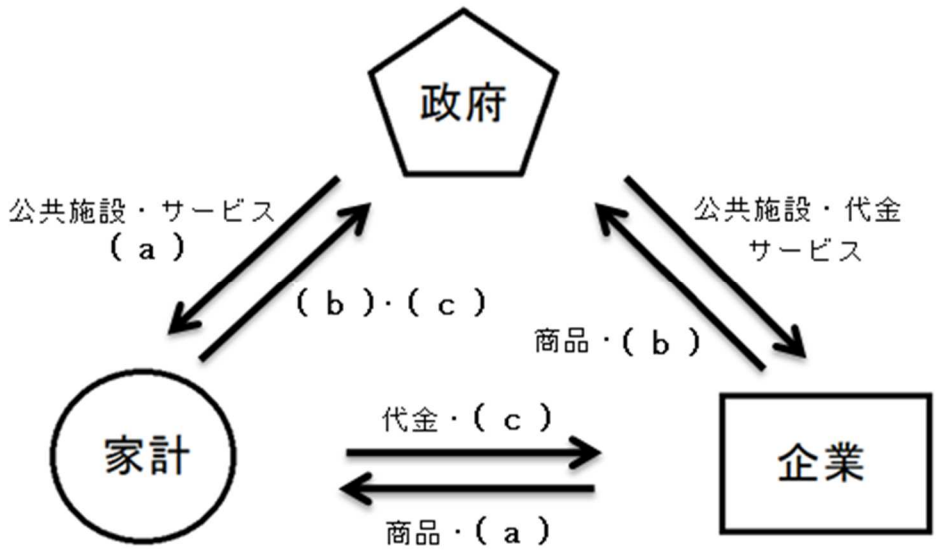
- ア 近代以前のヨーロッパで、専制政治に苦しむ人々の間に人権の考え方がめばえ、支配者の権力を制限しようとして憲法に基づく政治が始まった。  
イ 明治維新後、ヨーロッパの自由な社会にあこがれた人々によって、民定憲法である明治憲法が制定され、憲法に基づく政治が行われるようになった。  
ウ 日本国憲法は国の最高法規であり、これに違反する法律や命令は無効であり、憲法に基づいて政治が行われなければならない。  
エ 法律や国の行う政治が憲法に違反していないかどうかを判断する違憲立法審査権が、裁判所に与えられている。

問7 下線部⑦について、この三権分立の仕組みを述べたものとして正しいものを、次のア～エの中から1つ選んで、記号で答えなさい。

- ア 裁判官は、他の権力から圧力や干渉を受けないように身分が保証されていて、内閣の弾劾裁判や国民審査で罷免とされる場合を除いて辞めさせられることがない。  
イ 国権の最高機関である国会には、内閣の行う国政全般を監視したり、最高裁判所長官を指名したりする権限が与えられている。  
ウ 内閣は、国会の信任に基づいて行政全体を指揮・監督し、外国と条約を締結したり、天皇の国事行為に助言と承認を与えたり、法律を実施するための条例を定めたりする。  
エ 三権分立の仕組みは、フランスの思想家モンテスキューが主張したもので、それぞれの統治機関は互いの権力の抑制と均衡を図るべきだとされる。

- 問8 下線部⑧について述べた文として正しいものを、次のア～エの中から1つ選んで、記号で答えなさい。
- ア 国会で多数を占めた政党が与党として政権を担当し、それ以外の野党は、与党を批判したり監視したりして次に与党となることをめざす。
  - イ 日本では1955年以来、自由民主党と日本社会党が二大政党として政権交代をくりかえしてきたが、1990年代に政党の再編成が行われた。
  - ウ 小選挙区の選挙では大政党に有利となり、比例代表制の選挙では小政党に有利となるため、この両方を組み合わせた選挙が、衆議院と参議院で行われている。
  - エ 選挙にかかる多くの費用は、候補者が個人で負担しなければならないため、候補者は企業や団体から多くの寄付を集めなければならない。
- 問9 下線部⑨について述べた文として誤っているものを、次のア～エの中から1つ選んで、記号で答えなさい。
- ア 財やサービスを生産する企業には、商品についての正しい情報を表示したり、個人情報 を慎重に保護するといった社会的責任が求められている。
  - イ 日本の流通の仕組みは外国に比べて複雑であり、生産者から消費者の間に何段階にも分かれた卸売業者が入っていることが多い。
  - ウ 自由な経済活動が行われると、需要と供給の関係によって市場価格が成立するが、国民生活に影響の大きい米や生鮮食品の価格は、政府が決定する。
  - エ 立場の弱い消費者を守るために、アメリカのケネディ大統領は「消費者の四つの権利」を掲げたが、この考え方が日本にも大きな影響を与えた。
- 問10 下線部⑩について、貨幣の役割を表す語句として誤っているものを、次のア～エの中から1つ選んで、記号で答えなさい。
- ア 価値の尺度      イ 価値の保存      ウ 交換の手段      エ 交換の記録

問 11 下線部⑪について、次の図は経済の循環を表しています。図中の ( a ) ~ ( c ) にあてはまる語句の組み合わせとして正しいものを、下のア~エの中から1つ選んで、記号で答えなさい。



- ア a - 税金      b - 賃金      c - 労働力
- イ a - 労働力    b - 賃金      c - 税金
- ウ a - 賃金      b - 労働力    c - 税金
- エ a - 賃金      b - 税金      c - 労働力

問 12 下線部⑫について述べた文として正しいものを、次のア~エの中から1つ選んで、記号で答えなさい。

- ア 最近の医学の発展はめざましく、自分の体細胞を用いて、事故や病気で弱った臓器を再生する iPS 細胞の研究がすすんでいる。
- イ 世界には多くの宗教が存在し、特にキリスト教と仏教とヒンドゥー教は信者の数が多く、三大宗教といわれている。
- ウ 日本では、仏教にゆかりの深い七五三や七夕、神道に由来する彼岸やお盆のような多くの年中行事が行われている。
- エ 「和食」は、新鮮な食材を多く使い季節感がよく表現されているとして、外国からも高く評価され、ユニセフの無形文化遺産に登録された。